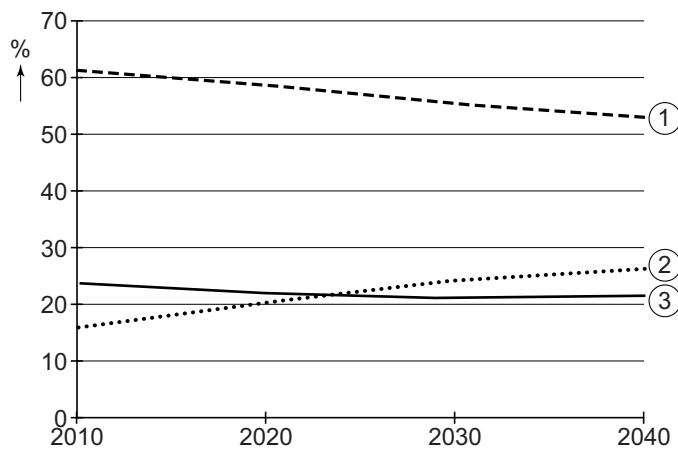


## Bevolking en ruimte

### bron 27

Nederland, verdeling leeftijdsgroepen van de bevolking, 2010-2040

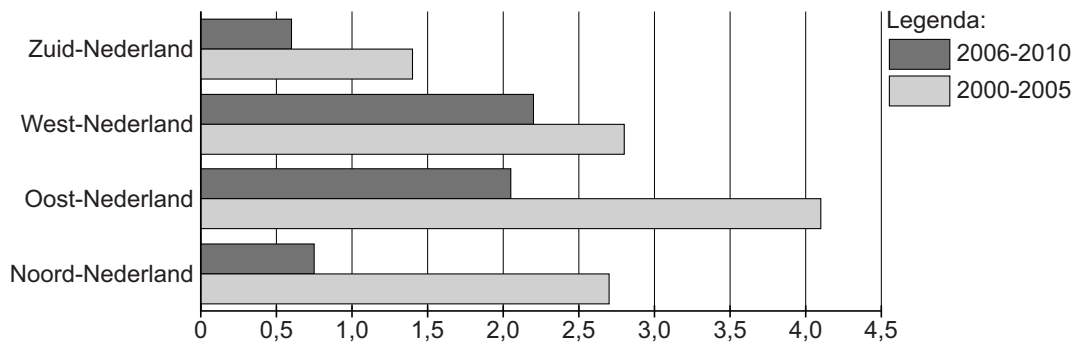


- 1p 29 Bekijk bron 27.  
In bron 27 zijn de leeftijdsgroepen vervangen door de cijfers 1, 2 en 3.  
Waar staan de cijfers 1, 2 en 3 uit bron 27 juist bij de drie leeftijdsgroepen?

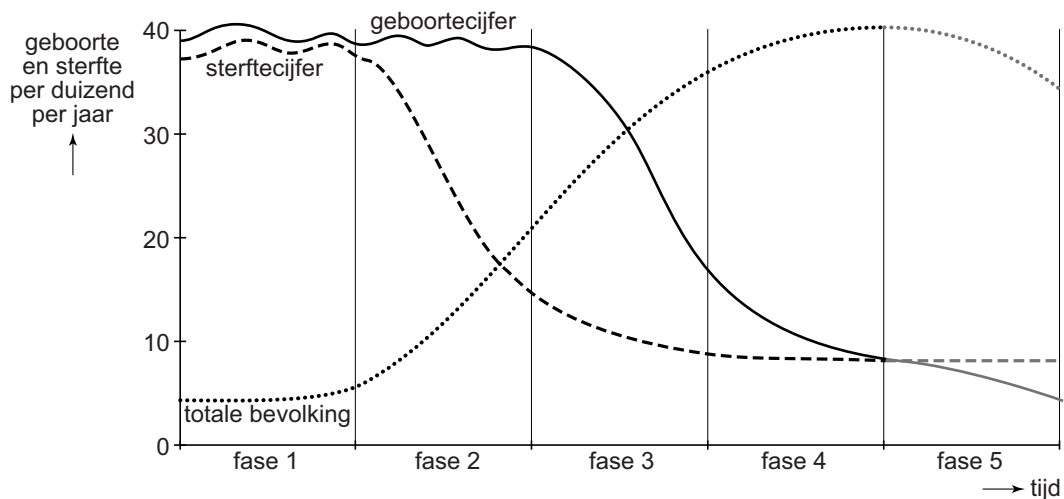
	0-20 jaar	20-65 jaar	65 jaar en ouder
A	1	2	3
B	1	3	2
C	2	1	3
D	2	3	1
E	3	1	2
F	3	2	1

### bron 28

Nederland, bevolkingstoename per landsdeel (in %) ten opzichte van het jaar 2000



- 2p **30** Bekijk bron 28.  
Over bron 28 worden drie uitspraken gedaan.  
Uitspraak 1: de vier landsdelen hadden in de periode 2000-2010 allemaal een bevolkingstoename.  
Uitspraak 2: Oost-Nederland had in de periode 2000-2005 **en** in de periode 2006-2010 de sterkste bevolkingsgroei.  
Uitspraak 3: in Noord-Nederland liep tussen 2000 en 2010 de bevolkingsgroei terug.  
→ Neem de cijfers 1, 2 en 3 van de uitspraken over op het antwoordblad en zet erachter of de uitspraak juist of onjuist is.
- 2p **31** Migratie van het platteland naar de steden heeft invloed op het sterftecijfer in de steden.  
→ Leg uit welke invloed deze migratie op het sterftecijfer in steden heeft.  
*Doe het zo:*
- Geef eerst aan welke invloed migratie heeft op de leeftijdsopbouw in de steden.
  - Geef daarna aan welke invloed de veranderde leeftijdsopbouw heeft op het sterftecijfer.

**bron 29****Demografisch transitie­model**

1p 32 Bekijk bron 29.

In het demografisch transitie­model uit bron 29 worden vijf fasen aangegeven.

Waar staat per fase uit bron 29 juist aangegeven hoe snel de bevolking groeit?

	<b>fase 1</b>	<b>fase 2</b>	<b>fase 3</b>	<b>fase 4</b>	<b>fase 5</b>
<b>A</b>	snelle groei	snelle groei	langzame afname	weinig of geen groei	weinig of geen groei
<b>B</b>	snelle groei	afnemende groei	weinig of geen groei	weinig of geen groei	afname
<b>C</b>	snelle groei	weinig of geen groei	langzame afname	weinig of geen groei	afnemende groei
<b>D</b>	weinig of geen groei	afnemende groei	weinig of geen groei	heel snelle groei	weinig of geen groei
<b>E</b>	weinig of geen groei	snelle groei	afnemende groei	langzame afname	weinig of geen groei
<b>F</b>	weinig of geen groei	snelle groei	afnemende groei	weinig of geen groei	afname

**bron 30**

Krantenartikel

V&D is definitief failliet.

31-12-2015 – Voor de 10.300 werknemers van het Nederlandse warenhuis is het faillissement geen prettig nieuws. Zij verliezen vlak voor de jaarwisseling hun baan. Het maandblad Quote voorspelde het faillissement van V&D al maanden van tevoren. Eén van de redenen van het faillissement is dat V&D veel te laat met een webwinkel is begonnen.

1p 33 Lees bron 30.

Over bron 30 worden twee uitspraken gedaan.

Uitspraak 1: een webwinkel vergroot het verzorgingsgebied van een winkel.

Uitspraak 2: door de webwinkel van V&D werd de reikwijdte vergroot.

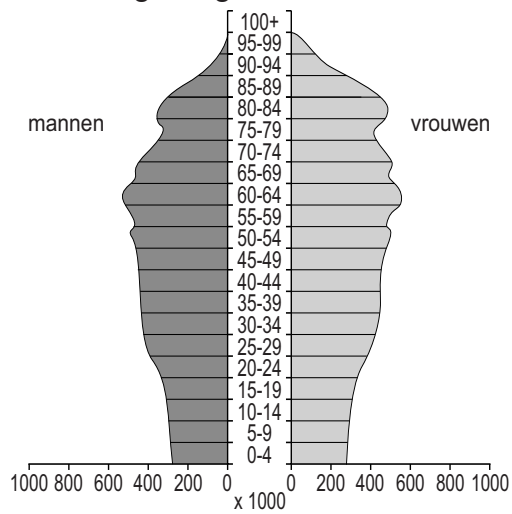
Wat is juist?

- A Alleen uitspraak 1 is juist.
- B Alleen uitspraak 2 is juist.
- C Beide uitspraken zijn juist.
- D Beide uitspraken zijn onjuist.

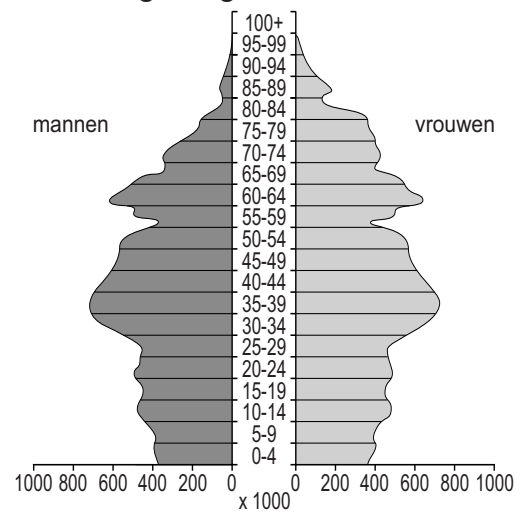
### bron 31

Vier bevolkingsdiagrammen van Duitsland

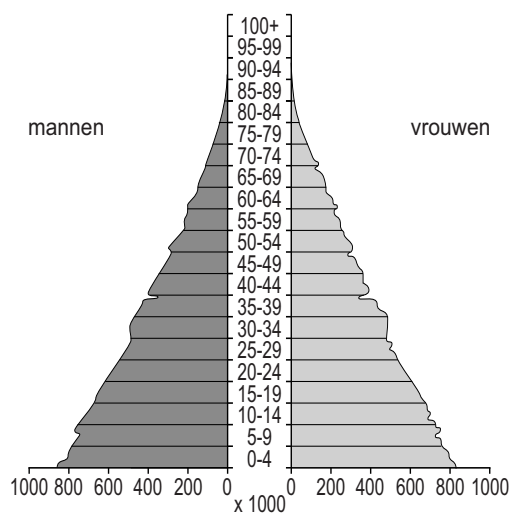
bevolkingsdiagram 1



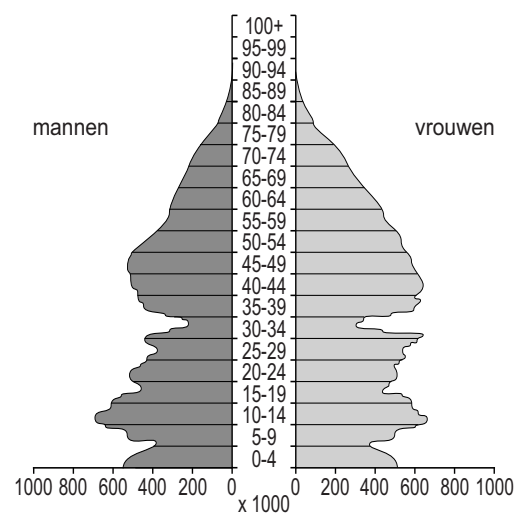
bevolkingsdiagram 2



bevolkingsdiagram 3



bevolkingsdiagram 4



1p 34 Bekijk bron 31.

De bevolkingsdiagrammen uit bron 31 zijn van Duitsland in 1910, 1950, 2005 en 2050 (verwachting) en staan in willekeurige volgorde.

Waar staan de cijfers 1, 2, 3 en 4 van de bevolkingsdiagrammen uit bron 31 juist bij de vier jaartallen?

	1910	1950	2005	2050
A	1	2	3	4
B	2	3	4	1
C	2	4	1	3
D	3	1	4	2
E	3	4	2	1
F	4	3	1	2

- 1p 35 Er zijn grote verschillen tussen de herkomstlanden van immigranten in Duitsland en Nederland. In Nederland wonen bijvoorbeeld veel Surinamers. In Duitsland hebben zich bijna geen Surinamers gevestigd.  
→ Noem de oorzaak van dit verschil.

**bron 32**

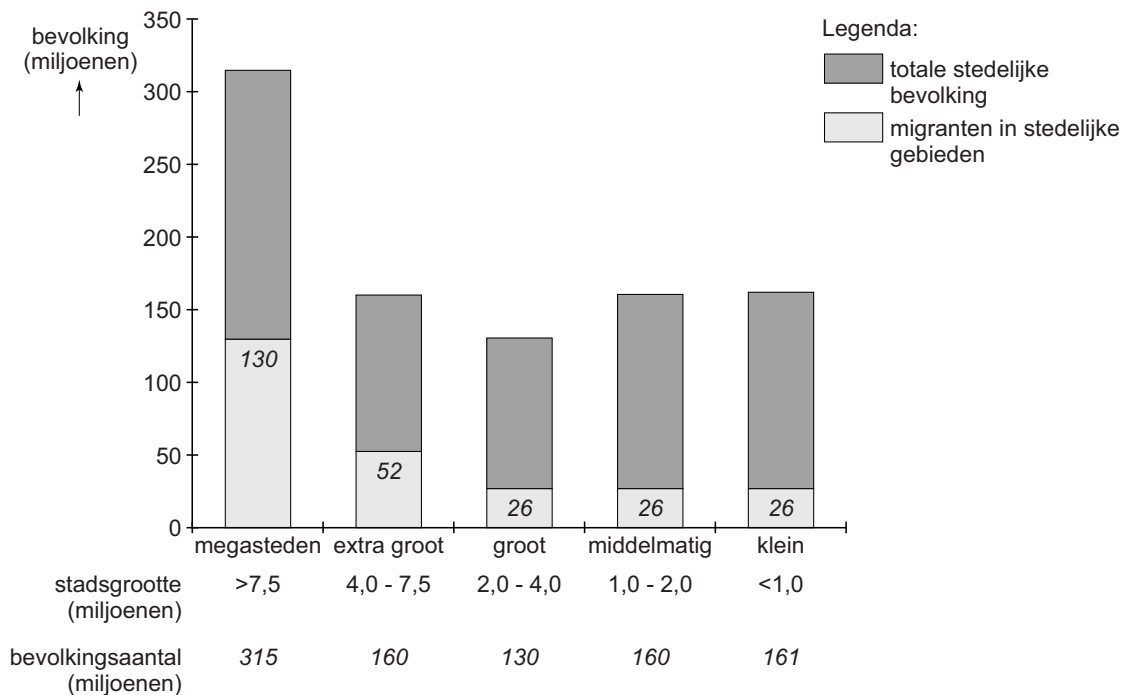
Het Ruhrgebied: industrie, cultuur en landschap



- 1p 36 Bekijk bron 32.  
→ Geef eerst aan of dit bord in 1950 of in 2015 langs de snelweg in Duitsland stond. Geef vervolgens een argument voor je keuze met behulp van bron 32.

### bron 33

#### China, stedelijke bevolking 2012



- 2p **37** Bekijk bron 33.  
Over bron 33 worden drie uitspraken gedaan.  
Uitspraak 1: procentueel wonen de meeste migranten in steden met meer dan 7,5 miljoen inwoners.  
Uitspraak 2: in de steden met 1 tot 2 miljoen inwoners is 26% van de inwoners migrant.  
Uitspraak 3: in 2012 had China 1.343.239.923 inwoners. Uit bron 33 valt af te leiden dat de meeste Chinezen toen in stedelijke gebieden woonden.  
→ Neem de cijfers 1, 2 en 3 van de uitspraken over op het antwoordblad en zet erachter of de uitspraak juist of onjuist is.
- 1p **38** Bekijk bron 33.  
In bron 33 wordt het aantal migranten dat naar stedelijke gebieden is verhuisd aangegeven.  
Deze migranten lopen door hun migratie tegen problemen aan die met hun hukou te maken hebben.  
→ Noem een probleem waarmee deze migranten te maken krijgen.

**bron 34**  
Stadsuitbreiding



Uitbreidingen aan de rand van de Chinese steden vinden bijna altijd op dezelfde manier plaats. Elke Chinese stad gebruikt ongeveer hetzelfde standaard bouwpatroon, waarbij vierkante woonblokken worden gevormd met hierin nieuwbouwflats. Het geheel ziet er van boven uit als een blokpatroon.

- 1p 39 Bekijk en lees bron 34.  
Bouwen volgens een vast patroon gaat sneller. In Oost-China wordt vaak gekozen voor stadsuitbreidingen volgens zo'n vast patroon.  
→ Geef hiervan een demografische reden.

**bron 35**  
De Xiaoqu

In Chinese steden zijn de woonblokken opgedeeld in 'Xiaoqu', wat klein district betekent. Deze woongebieden zijn omheind met hekken en muren en via een poort heeft men vanaf de straat toegang. Het voorzieningenniveau is er over het algemeen hoog. Er is een gemeenschappelijke tuin en er zijn parkeervoorzieningen. De duurdere Xiaoqu's hebben meestal een conciërge, snelle liften, een autovrije tuin en sportvoorzieningen zoals een zwembad.

- 1p 40 Lees bron 35.  
In bron 35 wordt gesproken over de Xiaoqu.  
Welk begrip past daar het best bij?
- A concessiegebied
  - B gated community
  - C historische stadskern
  - D hutong



**bron 36**

Ikeavestiging in Shanghai



2p 41

Bekijk bron 36.

Ikea heeft winkels geopend in Shanghai en Shenzhen.

→ Geef twee redenen waarom er meer winkels van Ikea gevestigd zijn in plaatsen als Shanghai en Shenzhen dan in steden in West-China.

**Let op: de laatste vraag van dit examen staat op de volgende pagina.**


**bron 37**

Shanghai, het Central Business District

oude locatie

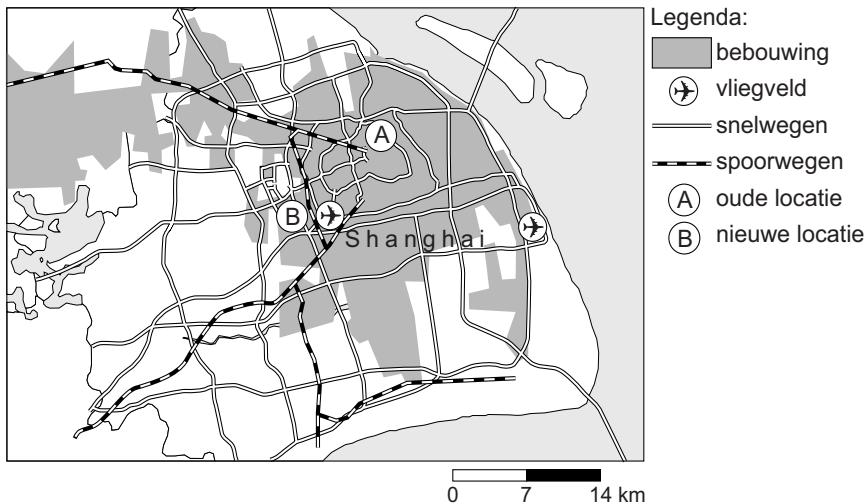


nieuwe locatie



**bron 38**

Shanghai



- 1p 42 Bekijk bron 37 en bron 38.  
De Chinese overheid heeft plannen om het Central Business District in Shanghai te verplaatsen naar een nieuwe locatie.  
→ Noem een voordeel van de nieuwe locatie van het Central Business District ten opzichte van de oude locatie.

**Bronvermelding**

Een opsomming van de in dit examen gebruikte bronnen, zoals teksten en afbeeldingen, is te vinden in het bij dit examen behorende correctievoorschrift, dat na afloop van het examen wordt gepubliceerd.